

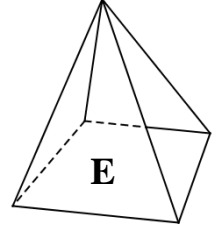
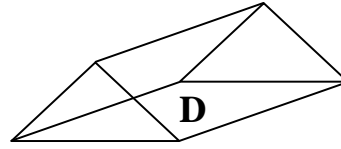
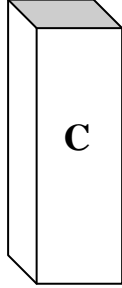
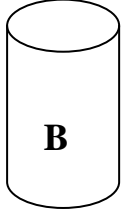
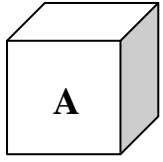
Prénom : _____

Date : ____/____/____

solides

1. Observe les solides suivants, puis complète le tableau

/15



	A	B	C	D	E
Nom					
Nombre de faces					
Nature des faces					
Nombre d'arêtes					
Nombre de sommets					

2. Complète les patrons du cube, du pavé et de la pyramide.

/5

