

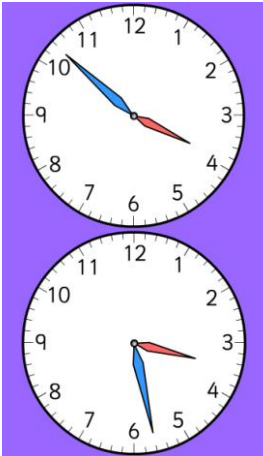
Prénom : _____

Date : ____/____/____

heures

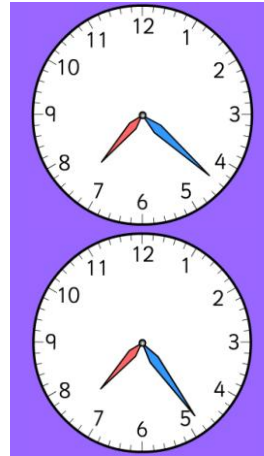
1.Écris l'heure qui correspond à chaque horloge. (Nous sommes le matin)

/4



Il est ____ H ____

Il est ____ H ____

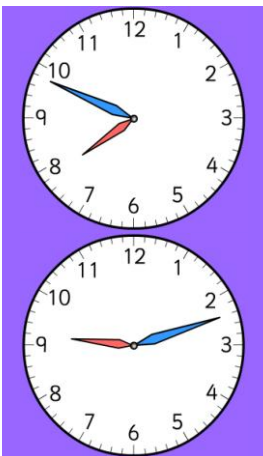


Il est ____ H ____

Il est ____ H ____


2.Écris l'heure qui correspond à chaque horloge. (Nous sommes l'après-midi ou le soir)

/4



Il est ____ H ____

Il est ____ H ____




Il est ____ H ____

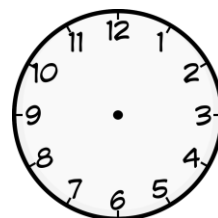
Il est ____ H ____

3.Dessine les aiguilles


/4




Il est six heures et demie



Il est neuf heures moins vingt



Il est dix heures moins cinq



Il est neuf heures vingt