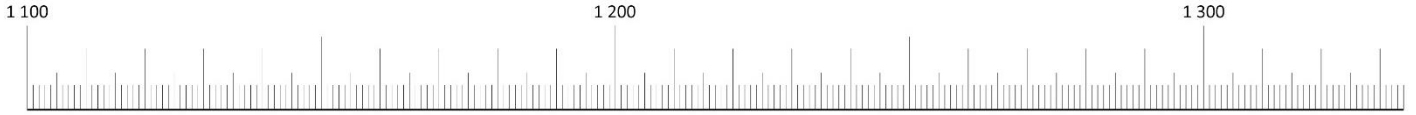


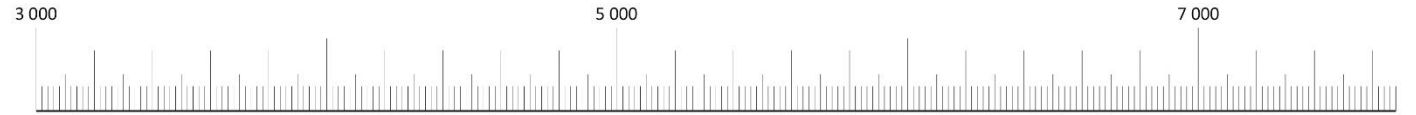
Place les nombres suivants sous la droite graduée : 1 250 ; 1 130 ; 1 325 ; 1 188



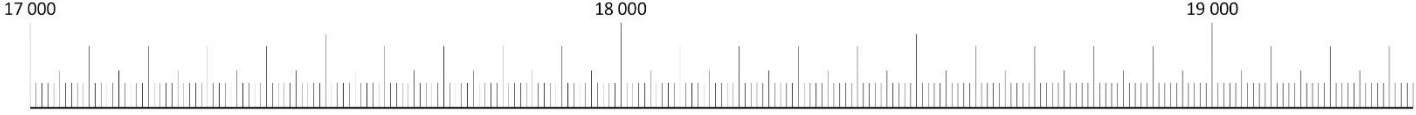
Place les nombres suivants sous la droite graduée : 60 ; 34 ; 73 ; 49



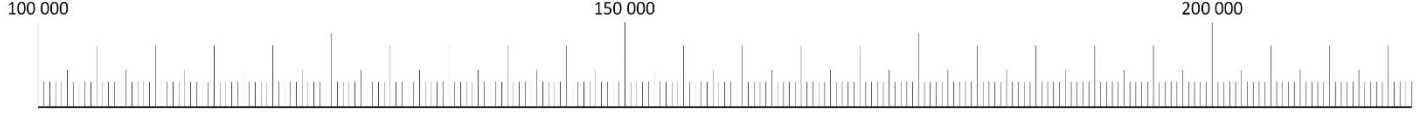
Place les nombres suivants sous la droite graduée : 4 000 ; 6 100 ; 7 640 ; 3 680



Place les nombres suivants sous la droite graduée : 18 500 ; 17 200 ; 19 250 ; 18 185



Place les nombres suivants sous la droite graduée : 120 000 ; 180 000 ; 210 000 ; 143 500



Place les nombres suivants sous la droite graduée : 12 750 ; 12 810 ; 12 625 ; 12 788



Place les nombres suivants sous la droite graduée : 9 000 ; 10 300 ; 7 500 ; 6 160



Place les nombres suivants sous la droite graduée : 700 000 ; 1 000 100 ; 890 000 ; 946 000



Place les nombres suivants sous la droite graduée : 45 350 ; 45 220 ; 45 402 ; 45 387



Place les nombres suivants sous la droite graduée : 786 587 ; 786 594 puis écris le nombre sur les pointillés :

