

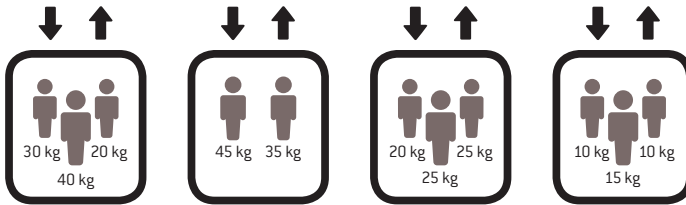
1 – COLORIE LES ÉLÉMENTS QUI ONT UNE MASSE PLUS PETITE QU'UN KILOGRAMME.



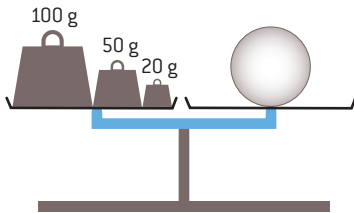
2 – ÉCRIRE « KILOGRAMME(S) » OU « GRAMME(S) » À CÔTÉ DE CHAQUE VALEUR.

Un trousse a une masse de 200
 Une pomme a une masse de 100
 Une voiture a une masse de 800
 Une enveloppe a une masse de 10
 Un adulte a une masse de 70
 Un vélo a une masse de 10

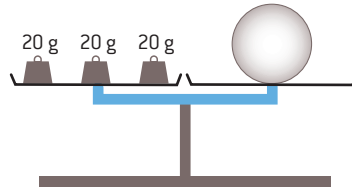
3 – COLORIE L'ASCENSEUR LE PLUS LOURD.



4 – ÉCRIS LA MASSE DE LA BOULE PRÉSENTE SUR LE PLATEAU DE LA BALANCE.



La masse de la boule est grammes.



La masse de la boule est grammes.

5 – LIS LES EXERCICES ET RÉPONDS AUX QUESTIONS.

Tina achète 3 kilogrammes de pommes, 4 kilogrammes de cerises, 2 kilogrammes de tomates et 1 kilogramme de noix. Elle dépose tout dans son panier.
 Quelle est la masse dans le panier de Tina ?

.....

Eddy a une voiture de 800 kilogrammes. Eddy a une masse de 50 kilogrammes. Il a une valise de 20 kilogrammes. Il est dans la voiture avec sa valise. Eddy veut passer avec la voiture sur un pont qui accepte 860 kilogrammes. Eddy peut-il rouler sur le pont ?

.....

